

FSC JUNIOR SCIENCE HUB 2026

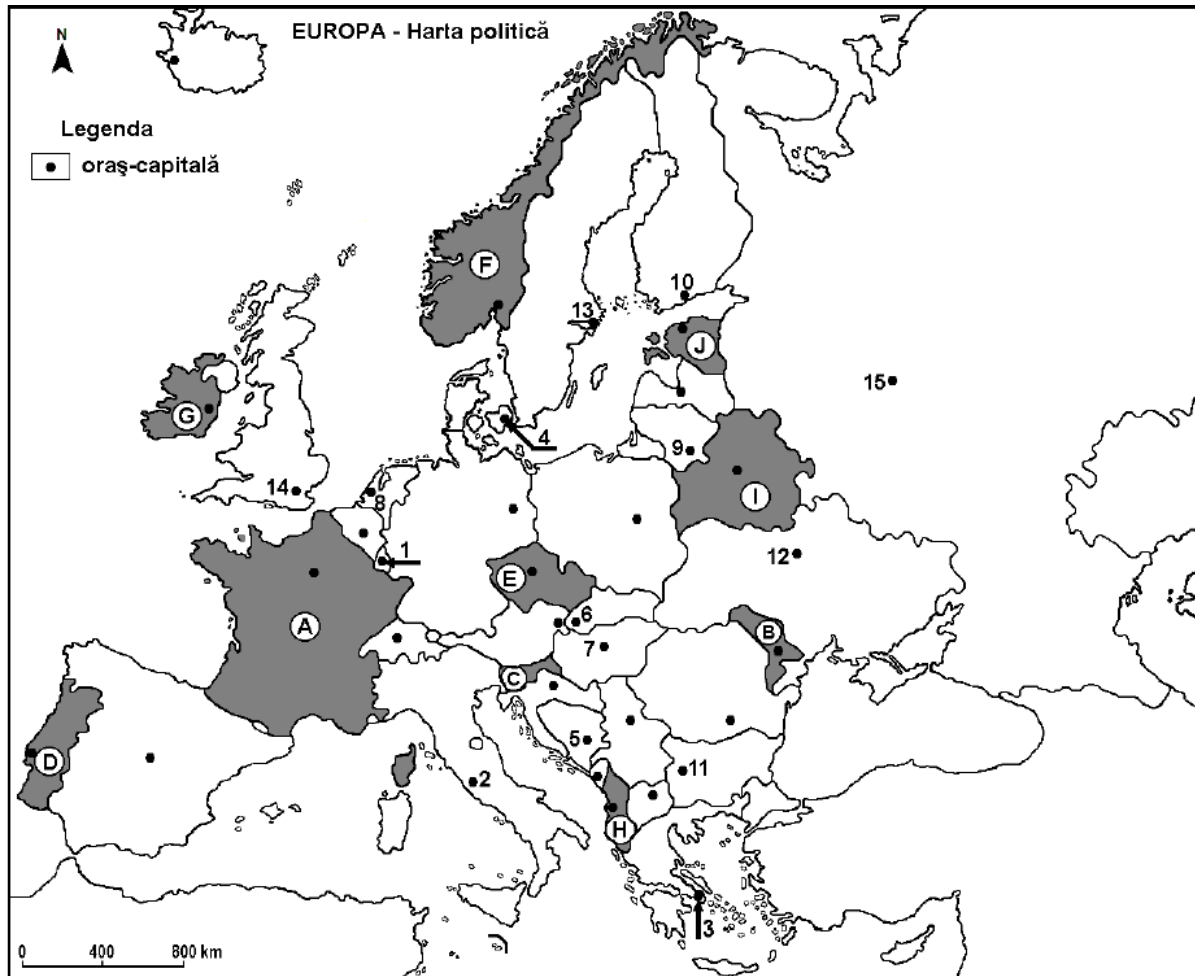
Geografie

Varianta 1

Bazat exclusiv pe structura de Bacalaureat

Toate cerințele sunt obligatorii. Se acordă 10 puncte din oficiu. Timp de lucru: 50 de minute

SUBIECTUL I (45 puncte)



Harta se referă la subiectul I. Pe hartă sunt marcate state cu litere și orașe-capitală cu numere.

1. Precizați:

- numele statului marcat, pe hartă, cu litera **D**;
- numele orașului-capitală marcat, pe hartă, cu numărul **11**.

15 puncte

2. Completați afirmațiile de mai jos:

- Fluviul Nipru traversează orașul-capitală marcat, pe hartă, cu numărul ___;
- Muntele Olimp se află în statul al cărui oraș-capitală este marcat, pe hartă, cu numărul ___.
- Statul marcat, pe hartă, cu litera **E** se numește _____.

15 puncte

3. Alegeți varianta corectă:

A. Orașul-capitală marcat, pe hartă, cu numărul 1 este:

- a) Amsterdam b) Bruxelles c) Luxembourg d) Haga

B. Mistralul este un vânt care bate în sudul statului marcat, pe hartă, cu litera:

- a) A b) F c) G d) H

C. Orașele-capitală marcate, pe hartă, cu numerele 6 și 7 sunt străbătute de fluviul:

- a) Dunăre b) Elba c) Rhin (Rin) d) Vistula

D. Orașul marcat, pe hartă, cu numărul 5 este capitala statului:

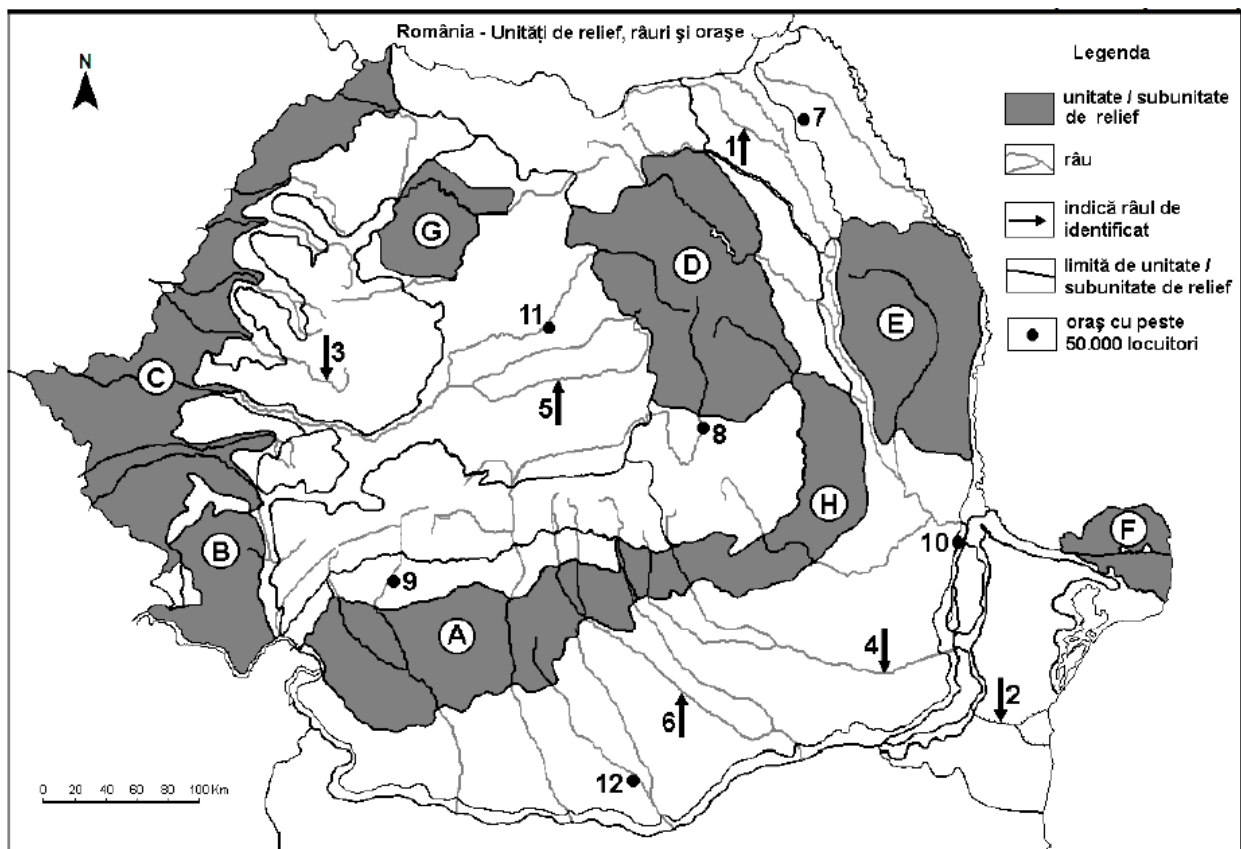
- a) Bosnia și Herțegovina b) Croația c) Macedonia de Nord d) Muntenegru

E. Statul marcat, pe hartă, cu litera J se numește:

- a) Belarus b) Estonia c) Letonia d) Lituania

15 puncte

SUBIECTUL al II-lea (45 puncte)



Harta se referă la subiectul II. Sunt marcate unități de relief cu litere, râuri cu numere de la 1 la 6 și orașe cu numere de la 7 la 12.

1. Precizați:

- a) numele râului marcat, pe hartă, cu numărul 4;
- b) numele orașului marcat, pe hartă, cu numărul 10.

15 puncte

2. Completați afirmațiile de mai jos:

- a) În subunitatea de relief marcată, pe hartă, cu litera **B** pătrund influențe climatice _____.
- b) Orașul marcat, pe hartă, cu numărul 12 se numește _____.
- c) Râul marcat, pe hartă, cu numărul 1 se numește _____.

15 puncte

3. Alegeți varianta corectă:

A. Petrol, gaze naturale și cărbuni se exploatează din unitatea de relief marcată, pe hartă, cu litera:

- a) A
- b) B
- c) C
- d) D

B. Soluri din clasa molisoluri (de tip cernoziom) se găsesc pe suprafețe întinse în unitatea de relief marcată, pe hartă, cu litera:

- a) B
- b) C
- c) D
- d) F

C. Orașul marcat, pe hartă, cu numărul 8 se numește:

- a) Brașov
- b) Covasna
- c) Miercurea Ciuc
- d) Sfântu Gheorghe

D. Râul marcat, pe hartă, cu numărul 5 se numește:

- a) Mureș
- b) Someș
- c) Târnava Mare
- d) Târnava Mică

E. Orașul marcat, pe hartă, cu numărul 9 este străbătut de râul:

- a) Argeș
- b) Jiu
- c) Motru
- d) Olt

15 puncte

Succes!

FSC JUNIOR SCIENCE HUB 2026

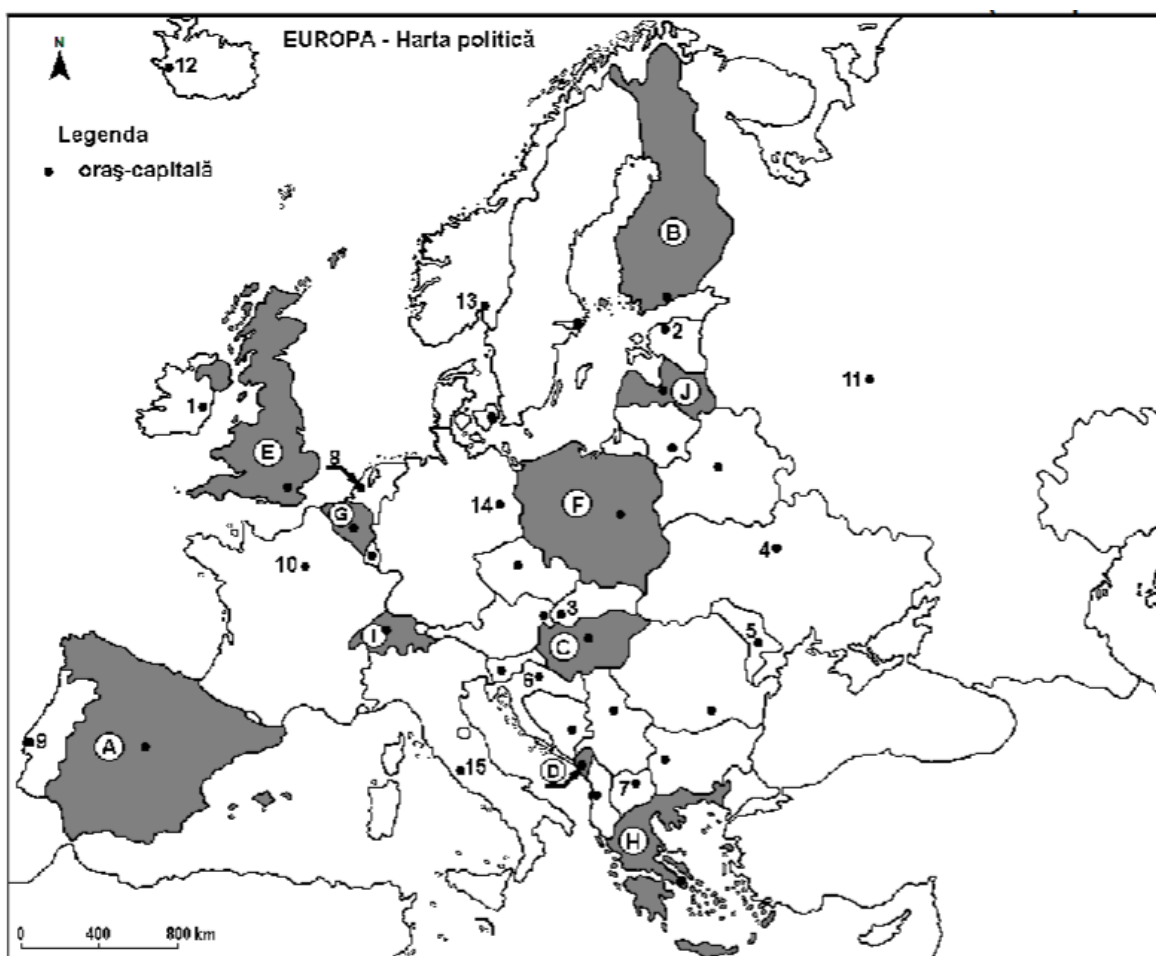
Geografie

Varianta 2

Bazat exclusiv pe structura de Bacalaureat

Toate cerințele sunt obligatorii. Se acordă 10 puncte din oficiu. Timp de lucru: 50 de minute

SUBIECTUL I (45 puncte)



Harta se referă la subiectul I. Pe hartă sunt marcate state cu litere și orașe-capitală cu numere.

1. Precizați:

- numele statului marcat, pe hartă, cu litera F;
- numele orașului-capitală marcat, pe hartă, cu numărul 5.

15 puncte

2. Completați afirmațiile de mai jos:

- Orașul-capitală marcat, pe hartă, cu numărul 1 se numește _____;
- Statul marcat, pe hartă, cu litera I se numește _____.
- Orașul Podgorica este capitala statului marcat, pe hartă, cu litera _____.

15 puncte

3. Alegeți varianta corectă:

A. Orașul-capitală marcat, pe hartă, cu numărul 7 este:

- a) Sarajevo b) Skopje c) Tirana d) Zagreb

B. Orașul-capitală Amsterdam este marcat, pe hartă, cu numărul:

- a) 8 b) 10 c) 13 d) 14

C. Fluviul Nipru străbate orașul-capitală marcat, pe hartă, cu numărul:

- a) 2 b) 4 c) 5 d) 11

D. Statul marcat, pe hartă, cu litera B se numește:

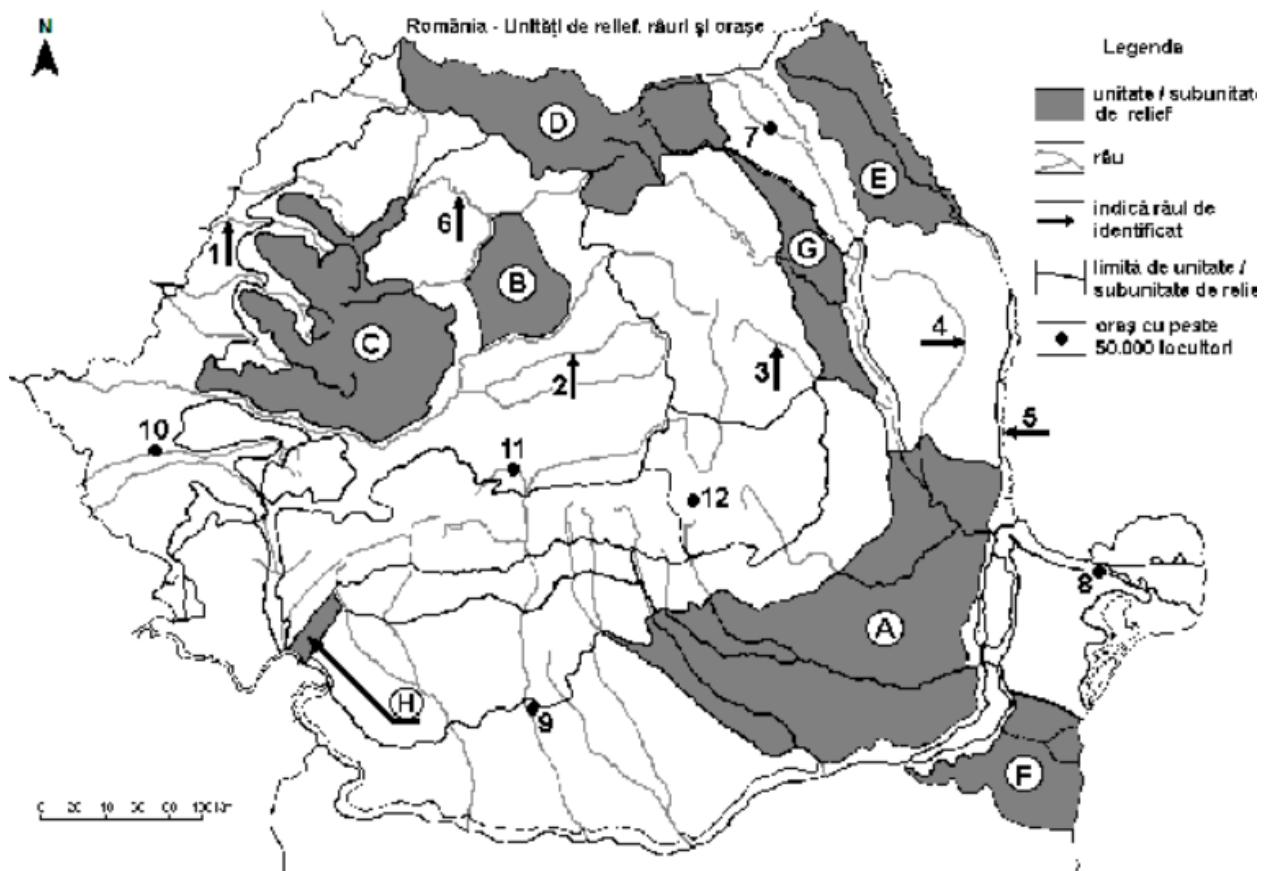
- a) Belarus b) Estonia c) Finlanda d) Lituania

E. În partea de nord-est a statului marcat, pe hartă, cu litera A se află Munții:

- a) Apenini b) Carpați c) Dinarici d) Pirinei

15 puncte

SUBIECTUL al II-lea (45 puncte)



Harta se referă la subiectul II. Sunt marcate unități de relief cu litere, râuri cu numere de la 1 la 6 și orașe cu numere de la 7 la 12.

1. Precizați:

- a) numele orașului marcat, pe hartă, cu numărul 11;
- b) numele râului marcat, pe hartă, cu numărul 4.

15 puncte

2. Completați afirmațiile de mai jos:

- a) Orașul marcat, pe hartă, cu numărul 8 se numește _____.
- b) Influențe climatice submediteraneene pătrund în unitatea de relief marcată, pe hartă, cu litera _____.
- c) Râul marcat, pe hartă, cu numărul 5 se numește _____.

15 puncte

3. Alegeți varianta corectă:

A. Orașul marcat, pe hartă, cu numărul 7 este străbătut de râul:

- a) Bistrița b) Moldova c) Siret d) Suceava

B. Soluri din clasa molisoluri (de tip cernoziom) se găsesc pe suprafețe mari în unitățile de relief marcate, pe hartă, cu literele:

- a) A și F b) B și C c) D și E d) G și H

C. Relieful vulcanic s-a format în unitatea de relief marcată, pe hartă, cu litera:

- a) A b) D c) E d) G

D. Râul marcat, pe hartă, cu numărul 6 se numește:

- a) Barcău b) Crișul Repede c) Mureș d) Someș

E. Orașul marcat, pe hartă, cu numărul 9 este străbătut de râul:

- a) Alexandria b) Craiova c) Râmnicu Vâlcea d) Slatina

15 puncte

Succes!

FSC JUNIOR SCIENCE HUB 2026

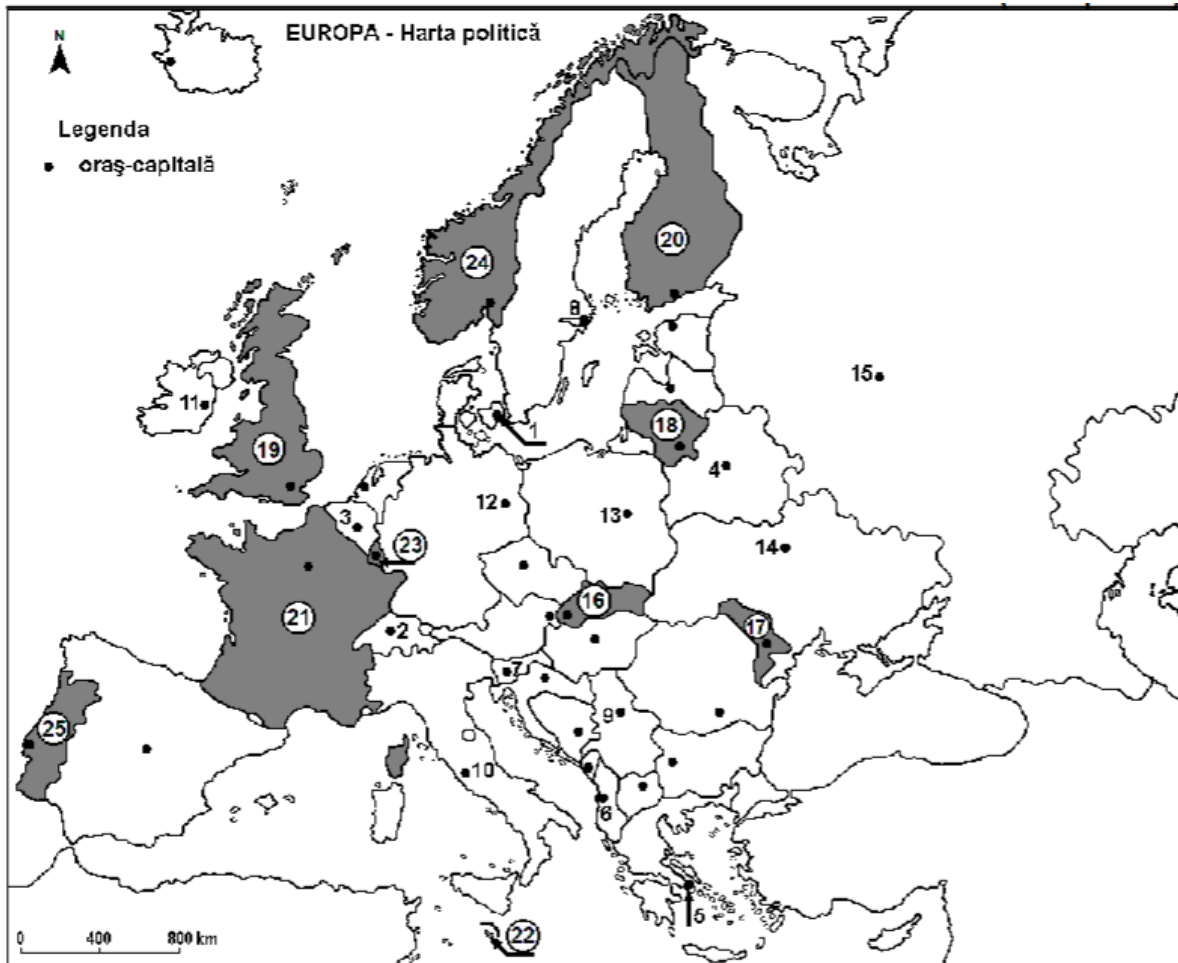
Geografie

Varianta 3

Bazat exclusiv pe structura de Bacalaureat

Toate cerințele sunt obligatorii. Se acordă 10 puncte din oficiu. Timp de lucru: 50 de minute

SUBIECTUL I (45 puncte)



Harta se referă la subiectul I. Pe hartă sunt marcate orașe-capitală cu numere de la 1 la 15 și state cu numere de la 16-25.

1. Precizați:

- numele statului marcat, pe hartă, cu numărul 21;
- numele orașului-capitală marcat, pe hartă, cu numărul 4.

15 puncte

2. Completați afirmațiile de mai jos:

- Orașul-capitală marcat, pe hartă, cu numărul 5 se numește _____.
- Statul marcat, pe hartă, cu numărul 20 se numește _____.
- Lacurile glaciare Ladoga și Onega se află în statul al cărui oraș-capitală este marcat, pe hartă, cu numărul _____.

15 puncte

3. Alegeți varianta corectă:

A. Orașul-capitală Bruxelles este marcat, pe hartă, cu numărul:

- a) 1 b) 2 c) 3 d) 12

B. Fluviul Dunărea străbate orașul-capitală marcat, pe hartă, cu numărul:

- a) 6 b) 7 c) 9 d) 13

C. Orașul-capitală marcat, pe hartă, cu numărul 10 se numește:

- a) Madrid b) Roma c) Viena d) Zagreb

D. Munții Penini și Munții Cambrieni se află pe teritoriul statului marcat, pe hartă, cu numărul:

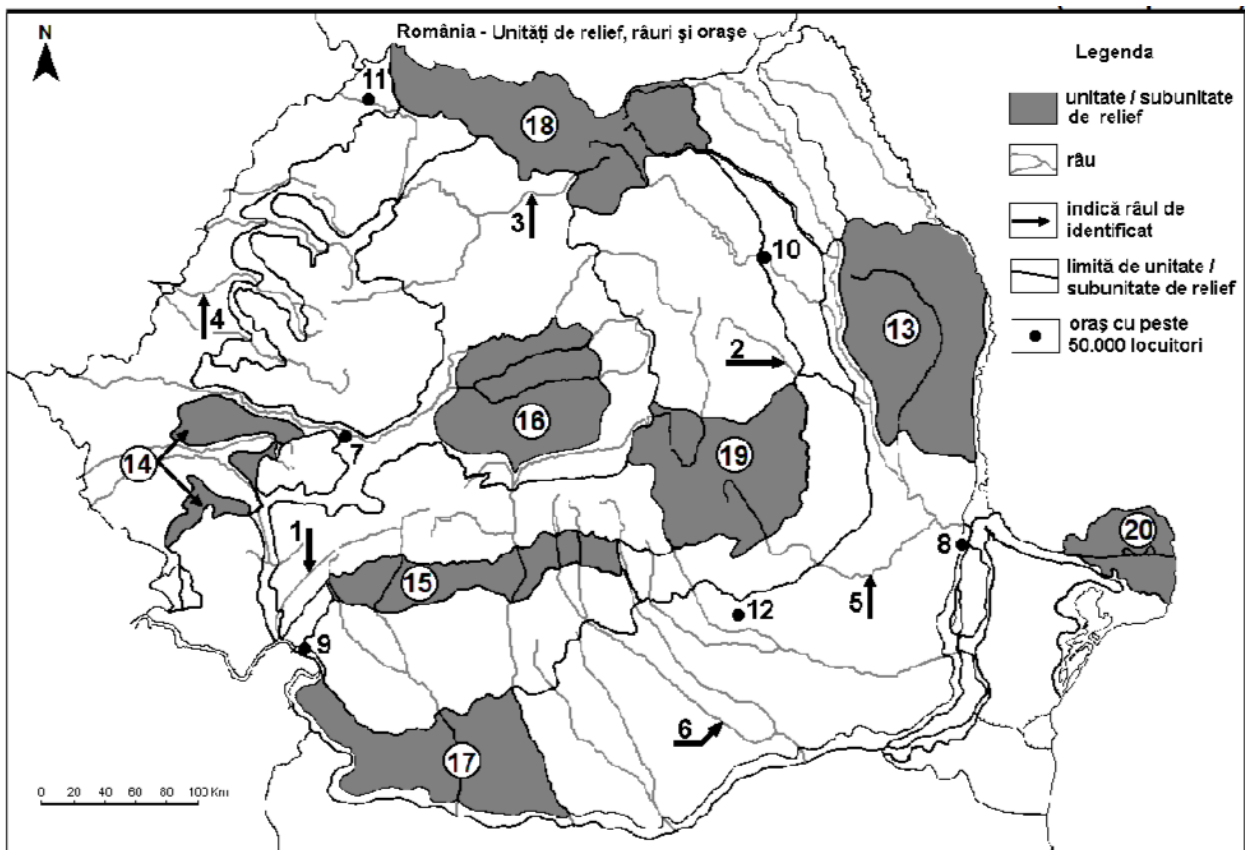
- a) 19 b) 20 c) 21 d) 24

E. Statul marcat, pe hartă, cu numărul 18 se numește:

- a) Estonia b) Letonia c) Lituania d) Luxemburg

15 puncte

SUBIECTUL al II-lea (45 puncte)



Harta se referă la subiectul II. Sunt marcate râuri cu numere de la 1 la 6, orașe cu numere de la 7 la 12 și unități/subunități de relief cu numere de la 13 la 20.

1. Precizați:

- a) numele orașului marcat, pe hartă, cu numărul 8;
- b) numele râului marcat, pe hartă, cu numărul 2.

15 puncte

2. Completați afirmațiile de mai jos:

- a) Râul marcat, pe hartă, cu numărul 5 se numește _____.
- b) Orașul marcat, pe hartă, cu numărul 7 se numește _____.
- c) Delta Dunării este marcată, pe hartă, cu numărul _____.

15 puncte

3. Alegeți varianta corectă:

A. Orașul marcat, pe hartă, cu numărul 10 este străbătut de râul:

- a) Bistrița
- b) Moldova
- c) Suceava
- d) Siret

B. Zăcămintele de petrol, gaze naturale și cărbuni există în subunitatea de relief marcată, pe hartă, cu numărul:

- a) 13
- b) 15
- c) 16
- d) 17

C. Influențe climatice submediteraneene pătrund în subunitatea de relief marcată, pe hartă, cu numărul:

- a) 13
- b) 14
- c) 16
- d) 18

D. Râul marcat, pe hartă, cu numărul 4 se numește:

- a) Barcău
- b) Crișul Alb
- c) Crișul Negru
- d) Crișul Repede

E. Relief vulcanic se găsește în subunitatea de relief marcată, pe hartă, cu numărul:

- a) 14
- b) 15
- c) 18
- d) 19

15 puncte

Succes!

FSC JUNIOR SCIENCE HUB 2026

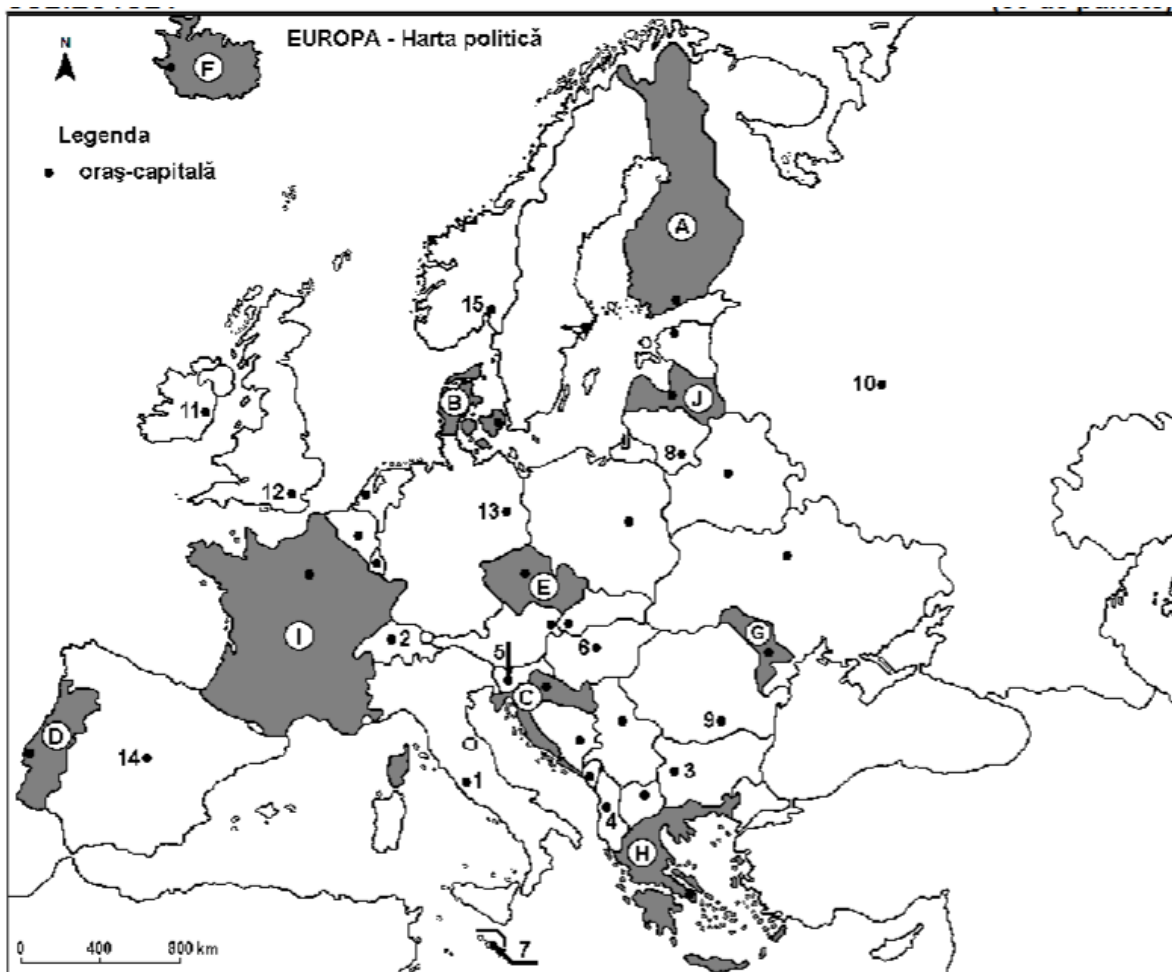
Geografie

Varianta 4

Bazat exclusiv pe structura de Bacalaureat

Toate cerințele sunt obligatorii. Se acordă 10 puncte din oficiu. Timp de lucru: 50 de minute

SUBIECTUL I (45 puncte)



Harta se referă la subiectul I. Pe hartă sunt marcate state cu litere și oraș-capitală cu numere.

1. Precizați:

- numele statului marcat, pe hartă, cu litera J;
- numele orașului-capitală marcat, pe hartă, cu numărul 14.

15 puncte

2. Completați afirmațiile de mai jos:

- Roma este orașul-capitală marcat, pe hartă, cu numărul ____.
- Copenhaga este capitala statului marcat, pe hartă, cu litera ____.
- Fluviile Sena și Ron (Rhône) străbat teritoriul statului marcat, pe hartă, cu litera ____.

15 puncte

3. Alegeți varianta corectă:

A. Capitala statului marcat, pe hartă, cu litera **E** este orașul:

- a) Bratislava b) Budapesta c) Praga d) Viena

B. Alpii Dinarici se desfășoară pe teritoriul statului marcat, pe hartă, cu litera:

- a) B b) C c) E d) I

C. Vegetația de tip frigana (maquis) este specifică în statul marcat, pe hartă, cu litera:

- a) A b) B c) F d) H

D. Orașul marcat, pe hartă, cu numărul 7 se numește:

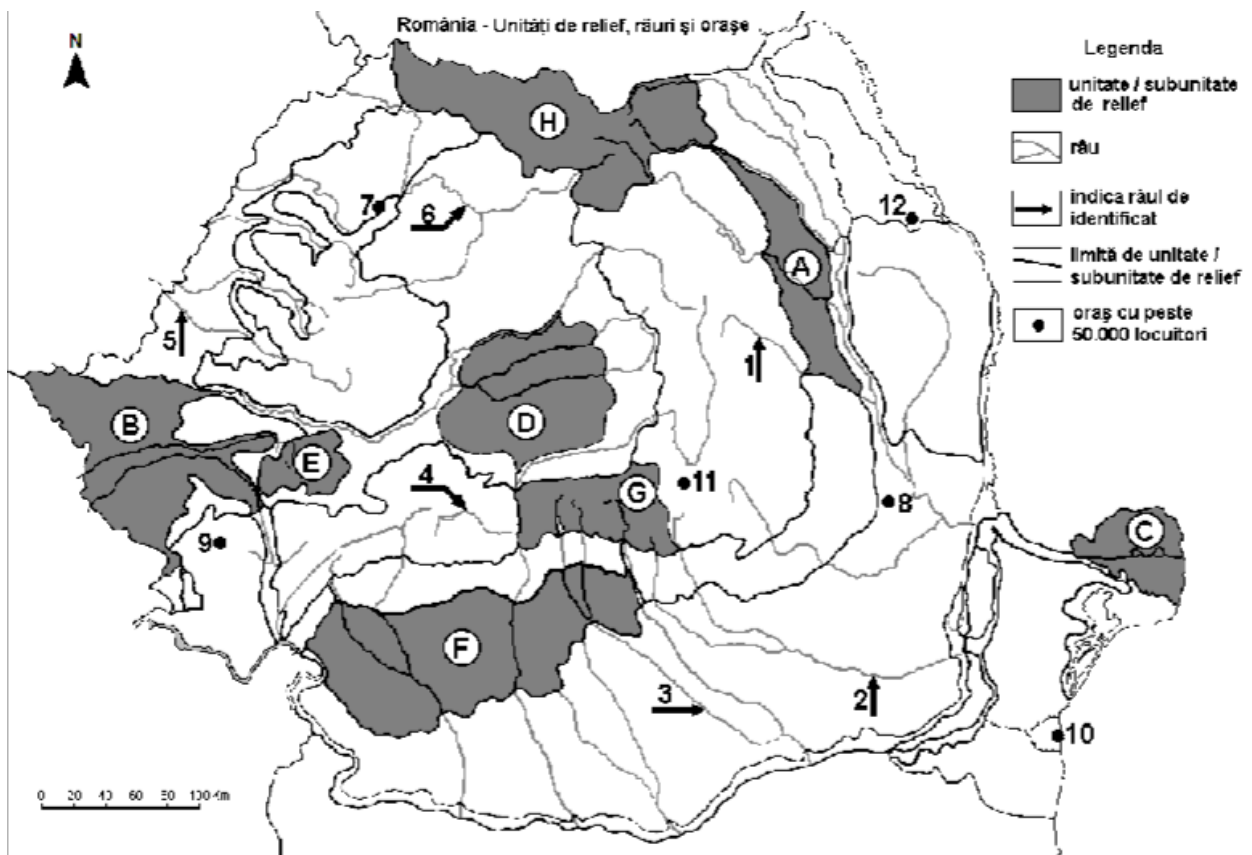
- a) Andorra la Vella b) Nicosia c) San Marino d) Valetta

E. Orașul marcat, pe hartă, cu numărul 5 este capitala statului:

- a) Albania b) Muntenegru c) Slovacia d) Slovenia

15 puncte

SUBIECTUL al II-lea (45 puncte)



Harta se referă la subiectul II. Sunt marcate unități de relief cu litere, râuri cu numere de la 1 la 6 și orașe cu numere de la 7 la 12.

1. Precizați:

- a) numele orașului marcat, pe hartă, cu numărul 12;
- b) numele râului marcat, pe hartă, cu numărul 6.

15 puncte

2. Completați afirmațiile de mai jos:

- a) Munți vulcanici se găsesc în unitatea de relief marcată, pe hartă, cu litera _____.
- b) Râul Crișul Alb este marcat, pe hartă, cu numărul _____.
- c) Cea mai nouă unitate de relief este marcată, pe hartă, cu litera _____.

15 puncte

3. Alegeți varianta corectă:

A. Relief glaciar și relief carstic există în unitatea de relief marcată, pe hartă, cu litera:

- a) B b) E c) F d) G

B. Este situat în Depresiunea Brașov orașul marcat, pe hartă, cu numărul:

- a) 8 b) 9 c) 11 d) 12

C. Râurile marcate, pe hartă, cu numerele 3 și 4:

- a) străbat bazine carbonifere b) străbat regiuni de câmpie
- c) sunt amenajate hidroenergetic d) sunt afluenți ai Oltului

D. O resursă de subsol din unitatea de relief marcată, pe hartă, cu litera **D** o constituie:

- a) cărbunii b) gazul metan c) minereul de fier d) petrolul

D. Orașul marcat, pe hartă, cu numărul 7 se numește:

- a) Baia Mare b) Cluj-Napoca c) Oradea d) Zalău

15 puncte

Succes!

VARIANTA 1

SUBIECTUL I

1. a) D-Portugalia; b) 11-Sofia

2. a) 12; b) 3; c) Cehia

3. A. c; B. a; C. a; D. a ; E. b

SUBIECTUL al II-lea

1. a) 4-Ialomița; b) 10-Brăila

2. a) submediteraneene; b) Alexandria; c) Suceava

3. A. a; B. b; C. d; D. c ; E. b

VARIANTA 2

SUBIECTUL I

1. a) F-Polonia; b) 5-Chișinău

2. a) Dublin; b) Elveția; c) D

3. A. b; B. a; C. b; D. c ; E. d

SUBIECTUL al II-lea

1. a) 11-Sibiu; b) 4-Bârlad

2. a) Tulcea; b) H; c) Prut

3. A. d; B. a; C. b; D. d ; E. d

VARIANTA 3

SUBIECTUL I

1. a) 21-Franța; b) 4-Minsk

2. a) Atena; b) Finlanda; c) 15

3. A. c; B. c; C. b; D. a ; E. c

SUBIECTUL al II-lea

1. a) 8-Brăila; b) 2-Trotuș

2. a) Buzău; b) Deva; c) 20

3. A. a; B. b; C. b; D. c ; E. b

VARIANTA 4

SUBIECTUL I

1. a) J-Letonia; b) 14-Madrid

2. a) 1; b) B; c) I

3. A. c; B. b; C. d; D. d ; E. d

SUBIECTUL al II-lea

1. a) 12-Iași; b) 6-Someș

2. a) H; b) 5; c) C

3. A. d; B. c; C. c; D. b ; E. d